



دبستان:

۱- الگوها را ادامه بده  
 ده- بیست - سی - .....  
 .....-۸۰-۹۰-۱۰۰

۲- وصل کن

هشتاد	۹۰	۹۹	بیست و چهار
پنجاه و سه	۴۶	۳۸	هفتاد و پنج
نود	۸۰	۲۴	نود و نه
چهل و شش	۵۳	۷۵	سی و هشت

۳- با کارت ها عدد دو رقمی بساز



حزوه سیتی

۴- محور را کامل کن.



$40 + 30 = \dots$

$80 - 20 = \dots$

۵- الگوها را ادامه بده

$3 - 6 - \dots$

$10 - 20 - \dots$

$6 - 12 - \dots$

$9 - 18 - \dots$


۶- تقریب بزن (به چند نزدیک است)

$59 \rightarrow$

$86 \rightarrow$

$93 \rightarrow$


۸۰ ○ ۲۰      ۲۰ ○ ۶۰      ۶۰ ○ ۷۰



۳۲ ○ ۲۳      ۴۸ ○ ۹۳      ۹۷ ○ ۷۹      ۳۹ ○ ۴۶

۸- الف) کوچک ترین عدد دورقمی ..... است

ب) بزرگ ترین عدد دورقمی ..... است



یک عدد دورقمی بنویس که یکان آن ۷ و دهگان آن ۲ تا بیشتر باشد .....

یک عدد دورقمی بنویس که یکان آن ۹ و دهگان آن ۳ تا کمتر باشد .....

عدد ۶۴ چند رقمی است ؟ .....

رقم دهگان عدد ۵۴ چه عددی است ؟ .....

$43 + 25 =$

۹- برای جمع زیر شکل بکش و حل کن (بسته ده تایی و یکی)

$13 + 26 =$

# جزوه سیتی

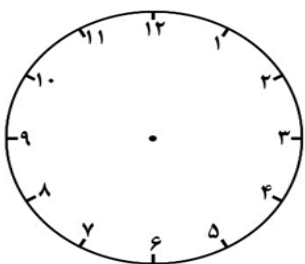
$56 - 24 =$

۱۰- امیرحسین ۱۸ کتاب علمی و درسی دارد. اگر ۹ کتاب درسی داشته باشد. او چند کتاب علمی دارد.

۱۱- کامل کن

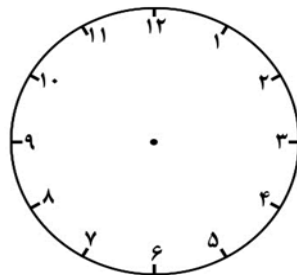
+	۶	۷	۸	۹
۵				
۶				

-	۸	۱۰	۹	۵
۱۸				
۱۲				

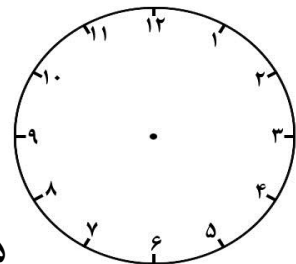


۹:۳۰

خسته نباشی



۵:۳۵



۲:۲۵